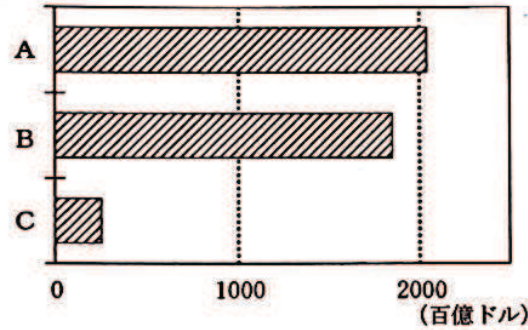


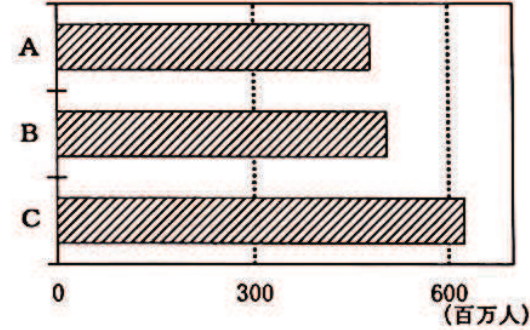
4 次のI, II, IIIのグラフは, A, B, Cの三つの地域統合の加盟国の国内総生産, 人口, 面積の合計をそれぞれ示したものである。あとの(1), (2)の問いに答えなさい。

なお, グラフのA, B, Cは, 東南アジア諸国連合(ASEAN), 北米自由貿易協定(NAFTA), ヨーロッパ連合(EU)のいずれかである。

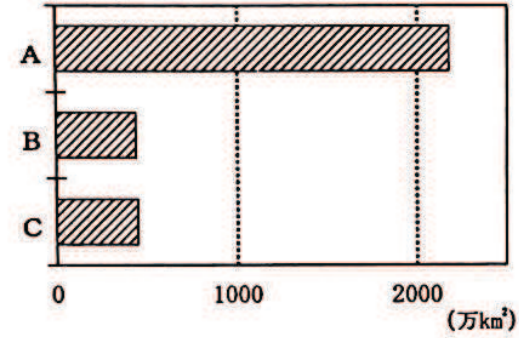
I 国内総生産の合計



II 人口の合計



III 面積の合計



(「世界国勢図会 2016/17年版」をもとに作成)

(1) A, B, Cの加盟国について述べた文として適当なものを, 次のアからカまでの中からそれぞれ一つずつ選んで, そのかな符号を書きなさい。

ア イギリスからの移民の子孫が人口の多くを占めているが, 近年は, 先住民のマオリの文化を守る動きが活発になっている。

イ 鉄鉱石などの鉱産資源が豊富であることから資源開発と工業化に力を入れる一方, アマゾン川流域では, 伝統的な焼畑農業も行われている。

ウ 自然環境と社会的な条件に対応した適地適作による農業がさかんである一方, 西部のシリコンバレーを中心に先端技術産業もさかんである。

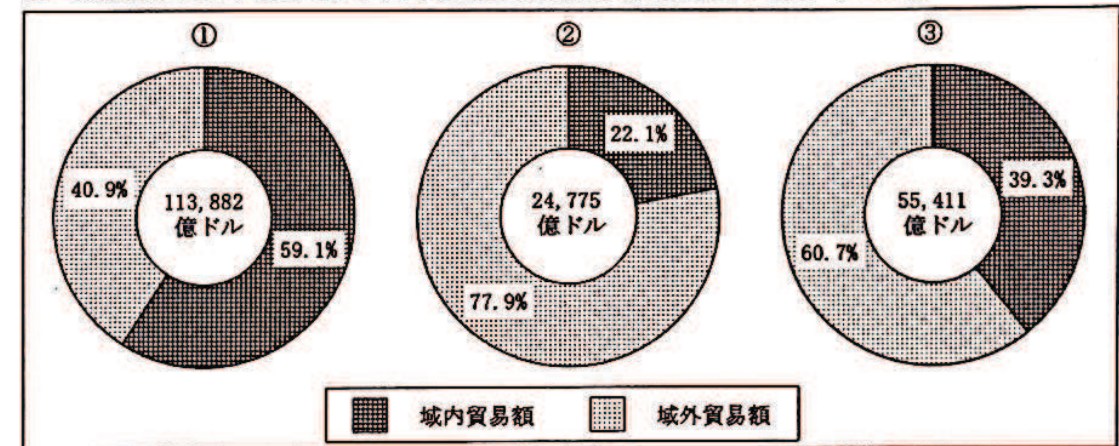
エ 古代文明の遺跡など観光資源が豊富であり, ナイル川流域の開発によって, 綿花など農作物の生産もさかんである。

オ 大西洋を西に進みアメリカ大陸付近に到達したコロンブスを援助し, その後, アメリカ大陸に多くの植民地を獲得した。

カ 冷たい戦争(冷戦)の時代に南北に分かれ, 大国の介入を受けた戦争が起こったが, その後, 南北を統一した社会主義国が成立した。

(2) 次のXのグラフは, A, B, Cそれぞれの加盟国の貿易額の合計およびそれに占める域内貿易額と域外貿易額の割合を示しており, 下のYのグラフは, A, B, Cそれぞれの加盟国と日本との貿易額の合計の推移を示したものである。X, Yの①, ②, ③は, A, B, Cのいずれかであり, 同じ番号はそれぞれ同じ地域統合を示している。①, ②, ③とA, B, Cの組み合わせとして最も適当なものを, あとのアからカまでの中から選んで, そのかな符号を書きなさい。

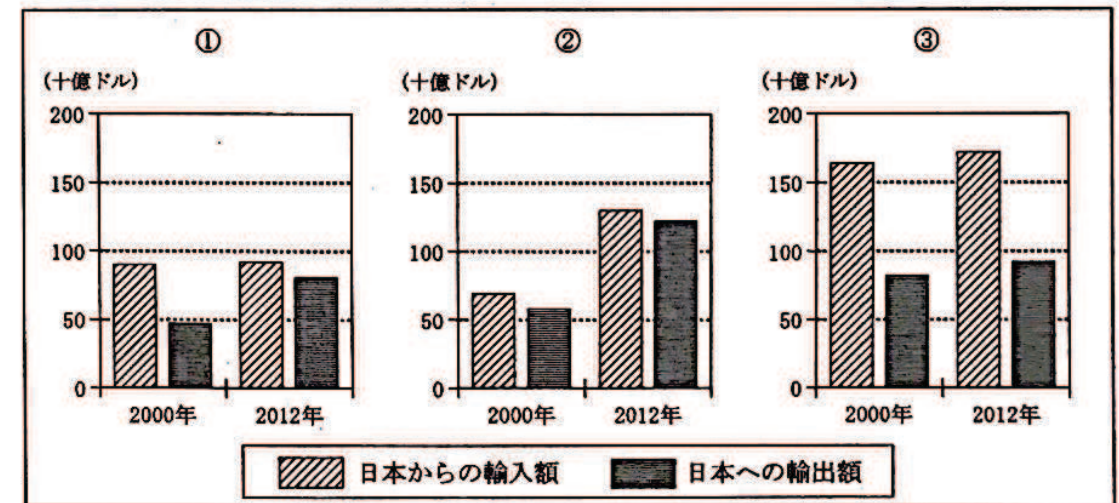
X 貿易額の合計およびそれに占める域内貿易額と域外貿易額の割合(2012年)



(注) 域内貿易額は, 加盟国間の貿易額を示す。
域外貿易額は, 加盟国以外との貿易額を示す。

(「世界国勢図会 2016/17年版」をもとに作成)

Y 日本との貿易額の合計の推移



(「通商白書 2014」をもとに作成)

ア ①:A, ②:B, ③:C

イ ①:A, ②:C, ③:B

ウ ①:B, ②:A, ③:C

エ ①:B, ②:C, ③:A

オ ①:C, ②:A, ③:B

カ ①:C, ②:B, ③:A